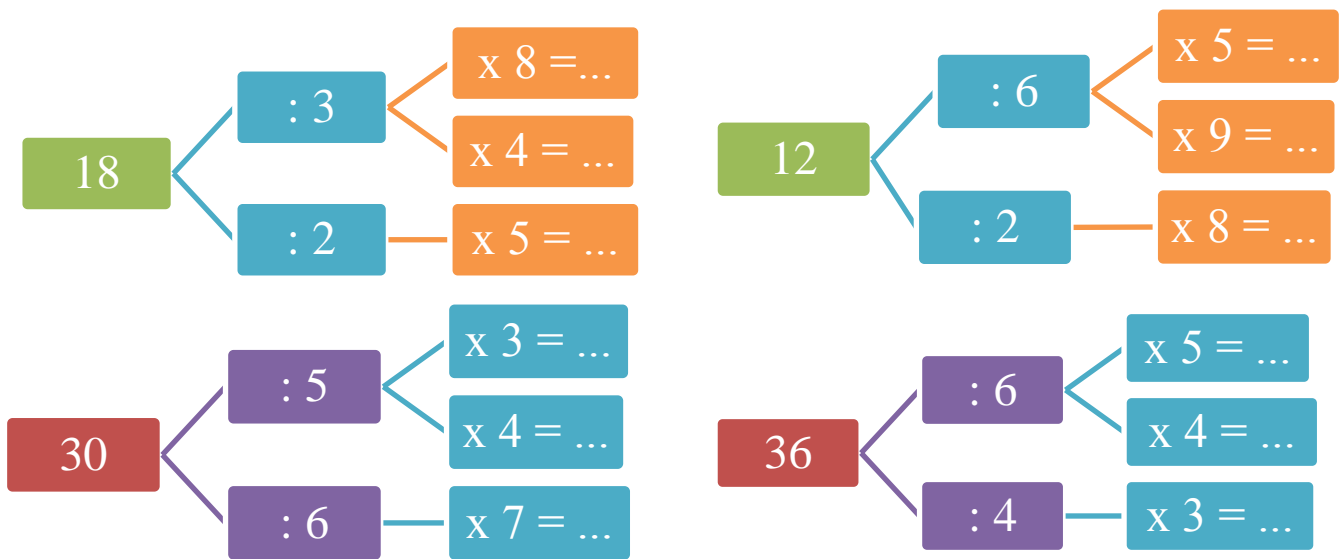


Діагностувальна робота № 2
з математики

з теми: «Дослідження таблиць множення і ділення чисел 2-6. Ділення з остачею. Доба, година, хвилина, секунда. Порівняння величин і чисел»
учня/ учениці 3 - ___ класу
(дистанційна форма навчання)

_____ (прізвище, ім'я, по батькові в родовому відмінку)

1. Обчисли ланцюжки і запиши відповіді.



2. Виконай ділення з остачею.

$15 : 6 = \dots \text{ (ост. } \dots \text{)}$

$37 : 5 = \dots \text{ (ост. } \dots \text{)}$

$63 : 5 = \dots \text{ (ост. } \dots \text{)}$

$26 : 4 = \dots \text{ (ост. } \dots \text{)}$

$53 : 3 = \dots \text{ (ост. } \dots \text{)}$

$21 : 2 = \dots \text{ (ост. } \dots \text{)}$

3. Визнач, який час показує кожен з годинників, запиши.



:



:



:

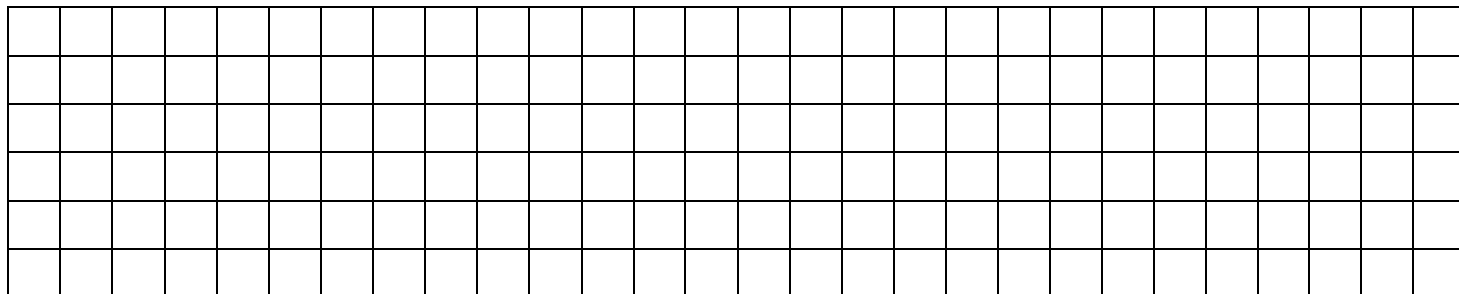


:




:

4. Виміряй довжину смужок. Визнач, у скільки разів зелена смужка коротша за червона. Запиши.



5. Накресли прямокутник зі сторонами 2 см і 7 см. Знайди периметр цього прямокутника.



6. Розв'яжи задачу.

З однієї ділянки зібрали 21 кг полуниці, а з другої – у 3 рази менше. Всю полуницю розклали порівну в 7 ящиків. Скільки кілограмів полуниці у кожному ящику?

